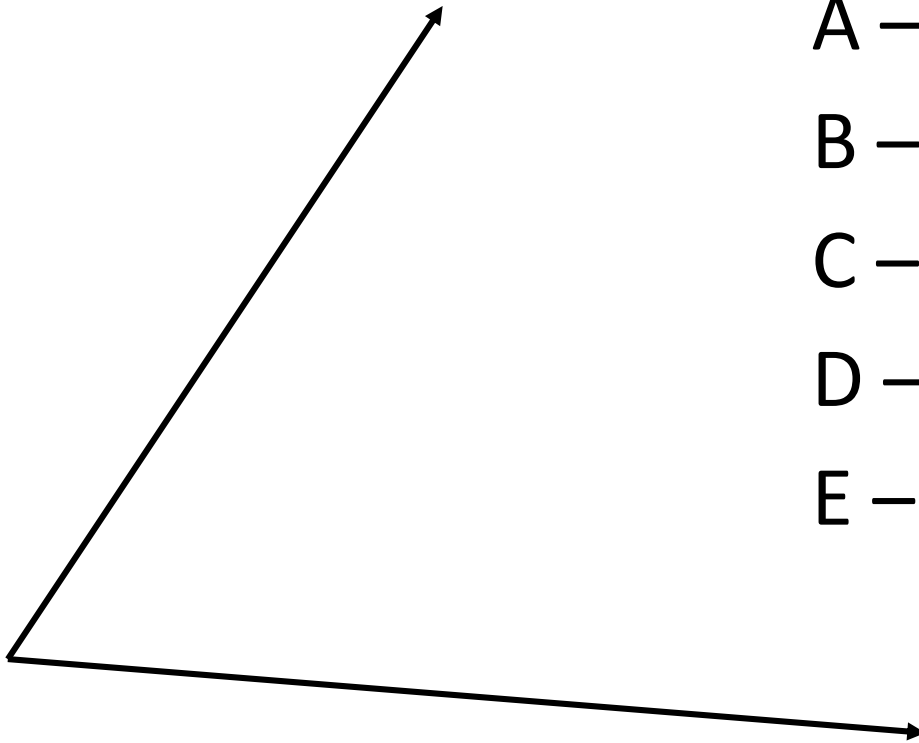
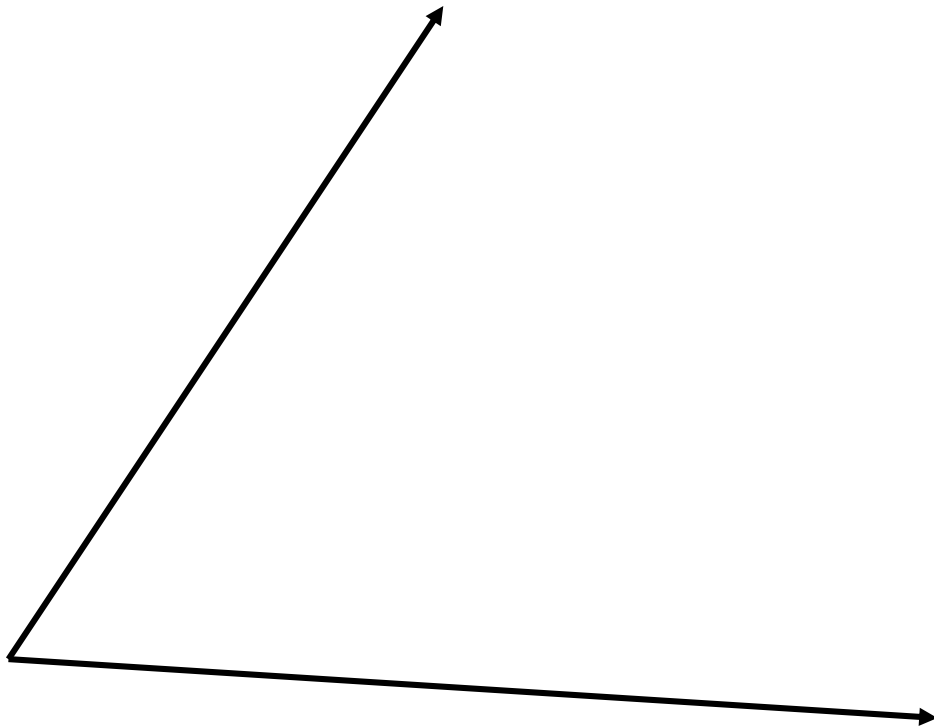


1) CHE COSA VEDI DISEGNATO?



- A – UN ANGOLO RETTO
- B – UN ANGOLO OTTUSO
- C – UN ANGOLO ACUTO
- D – UN ANGOLO PIATTO
- E – UN ANGOLO GIRO

2) QUANTO POTREBBE MISURARE
L'ANGOLO DISEGNATO?



A – 91°

B – 135°

C – 84°

D – 100°

E – 96°

3) QUANTO MISURA UN ANGOLO
RETTO?

A – 80°

B – 0°

C – 360°

D – 90°

E – 180°

4) QUANTO MISURA UN ANGOLO
GIRO?

A – 80°

B – 0°

C – 360°

D – 90°

E – 180°

5) QUANTO POTREBBE MISURARE UN ANGOLO OTTUSO?

A – 26°

B – 41°

C – 58°

D – 89°

E – 91°

6) QUANTO POTREBBE MISURARE UN ANGOLO ACUTO?

A – 26°

B – 101°

C – 98°

D – 109°

E – 90°

7) QUANTI ANGOLI RETTI TI SERVONO
PER FORMARE UN ANGOLO GIRO?

A – 4

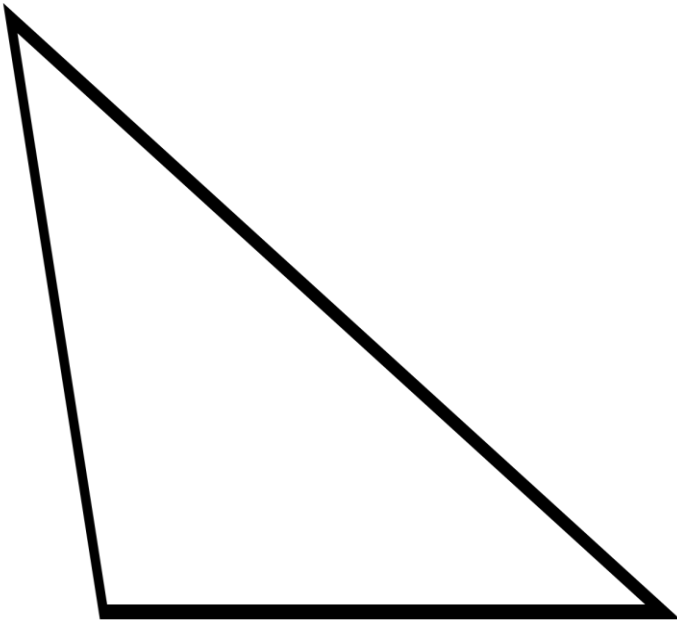
B – 3

C – 2

D – 1

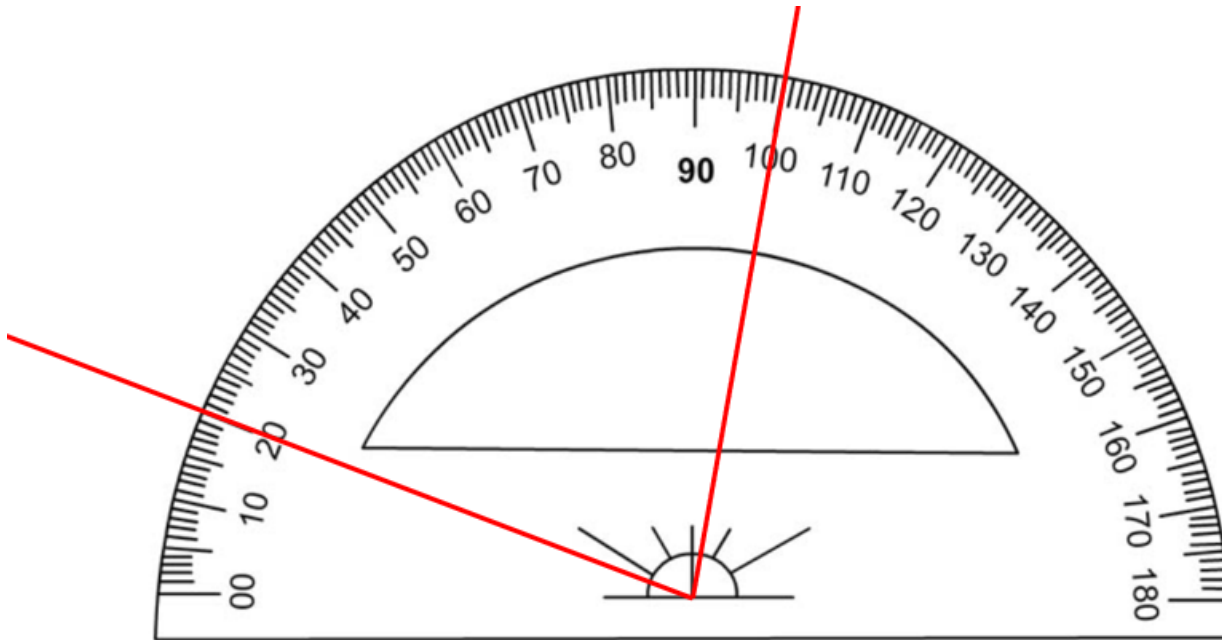
E – 0

8) CHE TIPO DI ANGOLI HA LA FIGURA CHE VEDI?



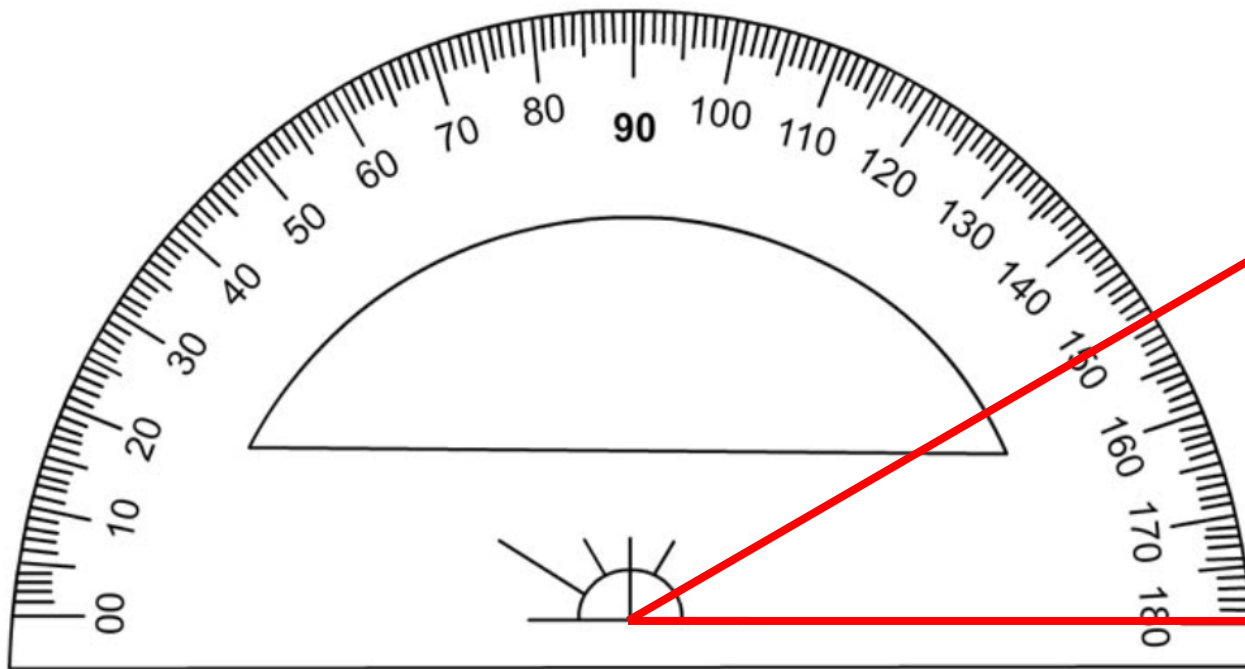
- A – 2 ANGOLI OTTUSI E 1 RETTO
- B – 2 ANGOLI ACUTI E 1 OTTUSO
- C – 3 ANGOLI ACUTI
- D – 1 RETTO E 2 ACUTI
- E – 4 ACUTI

9) QUANTO MISURA L'ANGOLO
DISEGNATO?



- A – 90°
- B – 100°
- C – 20°
- D – 80°
- E – 0°

10) QUANTO MISURA L'ANGOLO
DISEGNATO?



A – 30°

B – 150°

C – 25°

D – 180°

E – 90°