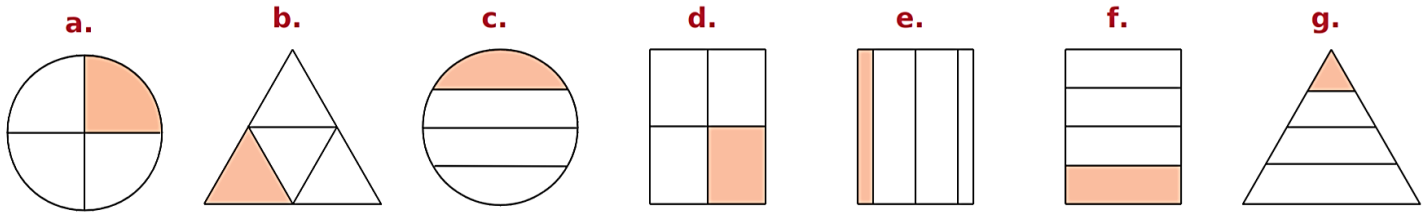
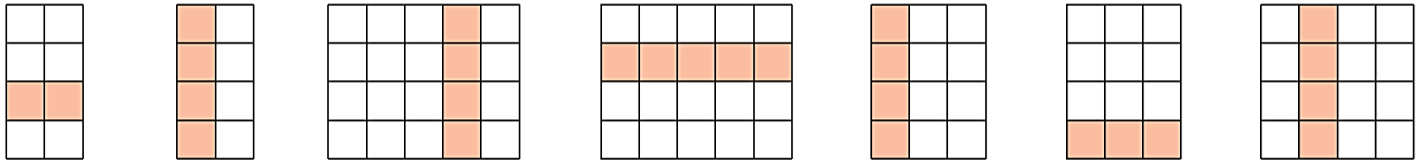


Cerchia le lettere delle figure che rappresentano $\frac{1}{4}$

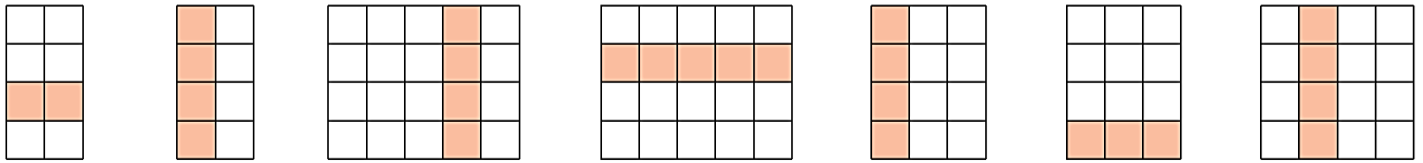


Indica quale frazione di ogni rettangolo rappresenta la parte colorata:



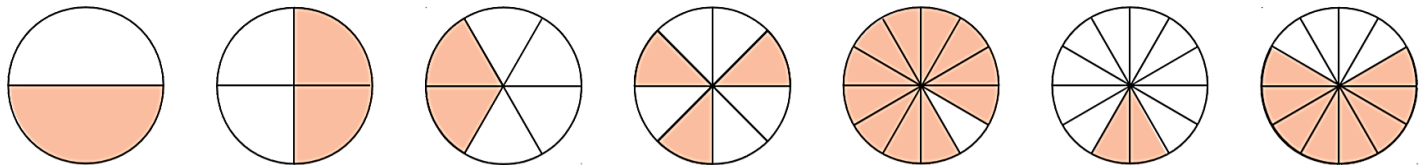
a. b. c. d. e. f. g.

Indica quale frazione di ogni rettangolo rappresenta la parte bianca:



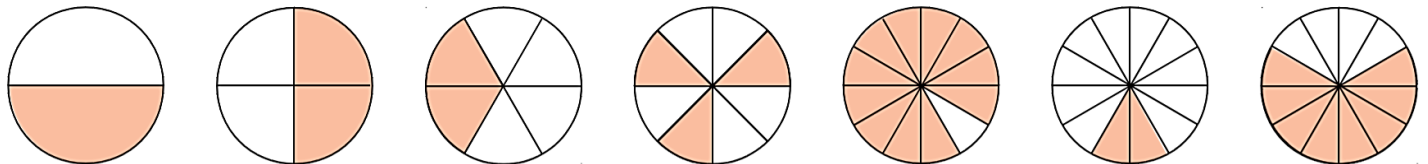
a. b. c. d. e. f. g.

Indica quale frazione di ogni cerchio rappresenta la parte colorata:



a. b. c. d. e. f. g.

Indica quale frazione di ogni cerchio rappresenta la parte bianca:



a. b. c. d. e. f. g.

Indica quale frazione di ogni figura rappresenta la parte colorata e quale la parte bianca:



a. e. b. e. c. e. d. e.

	<p>Ho diviso il quadrato in 4 parti, quale frazione del quadrato rappresenta ciascuna parte? Cerchia quella che non indica una frazione dell'intero rappresentato.</p> <p>A</p> <p>B</p> <p>C</p> <p>D</p>
--	--

